





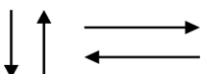


แบบฝึกหัดที่ 2 สัญลักษณ์ผังงาน

ชื่อ.....ชั้น.....เลขที่.....

1. ให้นักเรียนเติมข้อมูลที่ขาดหายไปในสัญลักษณ์ flowchart ให้สมบูรณ์

สัญลักษณ์	ชื่อเรียก	ความหมาย
	เริ่มต้นและสิ้นสุด (terminal)	
	การนำข้อมูลเข้า-ออกทั่วไป (general input/output)	
		จุดที่มีการปฏิบัติงานอย่างใด อย่างหนึ่ง
	การตัดสินใจ (decision)	จุดที่ต้องเลือกปฏิบัติอย่างใด อย่างหนึ่ง
	จุดเชื่อมในหน้าเดียวกัน (on page connector)	
	จุดเชื่อมต่อหน้ากระดาษ (off page connector)	จุดเชื่อมต่อของผังงานที่อยู่คน ละหน้ากระดาษ
		ทิศทางขั้นตอนการดำเนินงาน

2. สัญลักษณ์ Flowchart คืออะไร

.....

.....

3. ผังงานแบ่งออกเป็นประเภท อะไรบ้าง

.....

.....

4. การเขียนผังงาน (Flow Chart) ตามโครงสร้างควบคุมโปรแกรมมีโครงสร้างควบคุมหลัก 3 แบบ ให้นักเรียนอธิบาย โครงสร้างทั้ง 3 แบบ มาให้เข้าใจ

1. โครงสร้างแบบลำดับ.....
2. โครงสร้างแบบมีทางเลือก.....
3. โครงสร้างแบบทำซ้ำ.....

.....